
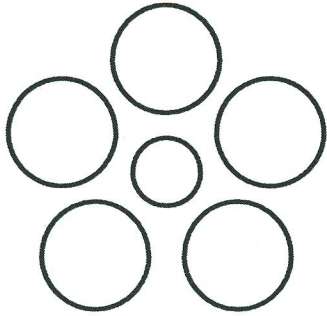
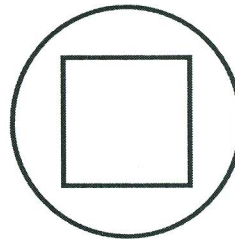



Optische Täuschungen



Welche Figur ist größer?



Welcher der beiden mittleren Kreise ist größer?



Welcher der beiden Kreise ist größer?



Welches der mittleren Quadrate ist größer?

Lösung auf Seite 2

